



T.C.  
MİLLÎ EĞİTİM BAKANLIĞI  
ÖLÇME, DEĞERLENDİRME VE SINAV HİZMETLERİ GENEL MÜDÜRLÜĞÜ

2019 - 2020 ÖĞRETİM YILI  
Sınavla Öğrenci Alacak Ortaöğretim Kurumlarına  
İlişkin Merkezî Sınav Yönelik  
Şubat Ayı Örnek Soruları  
(SÖZEL BÖLÜM)

- Bu kitapçıkta sözel bölüme ait örnek sorular bulunmaktadır.
  - Türkçe : 10 soru
  - T. C. İnkılap Tarihi ve Atatürkçülük : 5 soru
  - Din Kültürü ve Ahlak Bilgisi : 5 soru
  - İngilizce : 5 soru



## Türkçe Örnek Soruları

1. Birileri bana “Dünyanın en ilginç canlısını görmek ister misin?” diye sorsa cevabım kuşkusuz “Evet!” olurdu ve ichim içime sığmazdı. Bu sorunun küçük bir çocuğa yöneltildiğini düşünelim bir de. Hiç şüphesiz yüreğinde davullar gümbürder, bu canlının nasıl bir şey olduğunu görebilmek için yerinde duramazdı. Sevinçten âdetâ deliye dönerdi.
- I II III

**Numaralanmış sözlerden hangileri bu metinde geçen “yüreğinde davullar gümbürder” sözüyle anlatılmak istenenî karşılar?**

- A) Yalnız I. B) I ve II. C) II ve III. D) I, II ve III.

2. Bir araştırmada beş yaşındaki çocuklardan oluşan iki gruba bir çocuk programı izletildi. Gruplardan birinin odasına ilgi çekici birçok oyuncak kondu. Oyuncak bulunmayan odadaki çocuklar programın %87’sini izlerken oyuncak bulunan odadaki çocuklar sadece %47’sini izlediler. Fakat bu iki gruptaki çocuklar, programın ne kadarını hatırladıklarını ve anladıklarını ölçen bir teste tabi tutulduklarında iki grup da yüksek puanlar aldı. Bu durum karşısında şaşkına dönen araştırmacılar şöyle bir açıklama yaptılar: “- - -”

**Bu parçanın sonuna anlam akışına göre aşağıdakilerden hangisi getirilmelidir?**

- A) Çocukların bir hedefe odaklanabilmeleri için buldukları ortamın mümkün olduğunca dikkatlerini dağıtacak unsurlardan arındırılması gerektiğini tespit ettik.  
B) Oyuncakların bulunduğu odadaki çocukların, dikkatlerini oyuncaqlarla oynama ve programı izleme arasında kolaylıkla bölüştürebildikleri sonucuna ulaştık.  
C) Anlaşılan o ki öğrenmenin niteliği, öğrenene ait özellikler kadar içinde bulunulan ortamdaki televizyon, oyuncak ve diğer insanlar gibi dış uyarıcılardan da etkilenmektedir.  
D) Hatırlama, sezme, anlama ve hayal kurma becerileri dikkate bağlı olarak gelişmektedir.

3. I. Unutulma hakkı, bireyin ulusal ve uluslararası metinlerde çerçevesi çizilen her türlü kişisel verisinin korunmasını sağlayan bir haktır.  
II. Bu durumu ortadan kaldırmak için kişisel verilerin korunması hakkının bir görünümü sayılabilecek olan “unutulma hakkı” kavramı gündeme gelmiştir.  
III. Kişisel veriler dijital ortamlarda bir kez paylaşıldığında bu ortamda kayıt altına alınmakta, kimi zaman üçüncü kişiler tarafından bireyin rızası dışında kullanılabilir. Bu hak, dijital hafızada yer alan kişisel bir içeriğin, bireylerin talebi üzerine bir daha geri getirilemeyecek biçimde silinmesidir.









**Bu parçanın anlamlı bir bütün oluşturabilmesi için numaralanmış cümlelerden hangileri yer değiştirmelidir?**

- A) I ve II. B) I ve III. C) II ve IV. D) III ve IV.

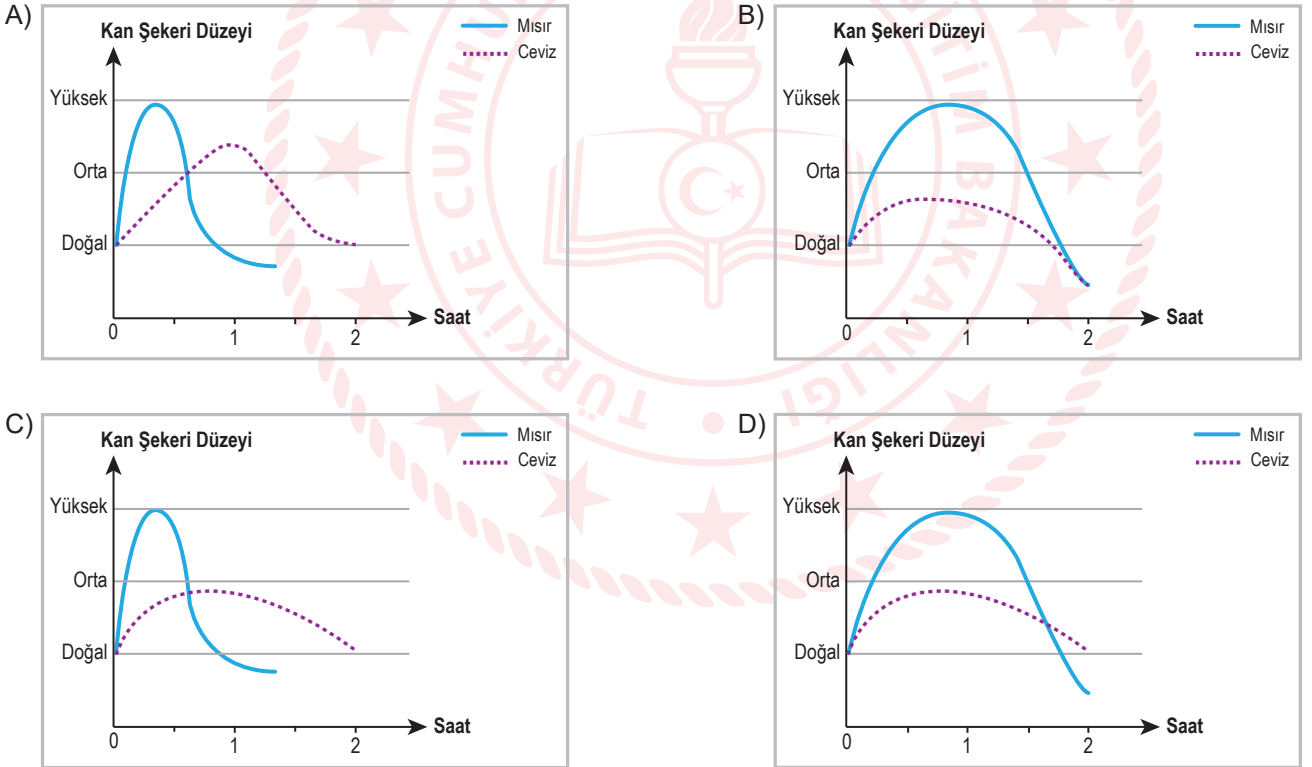
4 ve 5. soruları aşağıdaki parçaya göre cevaplayınız.

“Glisemik indeks” karbonhidrat içeren gıdaların, kan şekerini yükseltme oranını ölçen bir değerdir. Glisemik indeksi düşük olan gıdalar tüketildikten sonra kan şekeri yavaş yavaş doğal düzeyin üzerine çıkıp orta düzeye yaklaşır, iki saat içinde de doğal düzeye iner. Bu gıdalar yavaş sindirildiği için uzun süre tok tutar. Kişiyi şeker, tansiyon ve kalp hastalıklarına karşı korur; bağışıklık sistemini güçlendirir. Yüksek glisemik indeksli gıdalar tüketildiğinde ise kan şekeri yarım saat içinde en yüksek düzeye ulaşır, bir saat dolmadan da doğal düzeyin altına düşer. Bu gıdalar kan şekerinde dalgalanmalara yol açar ve uzun vadede vücutta yağlanmaya, şeker ve kalp hastalıklarına neden olur.

Aşağıdaki tabloda bazı gıdalar, glisemik değerlerine göre sınıflandırılmıştır.

GLİSEMİK DEĞERİ DÜŞÜK GIDALAR				GLİSEMİK DEĞERİ YÜKSEK GIDALAR			
							
Çilek	Brokoli	Ceviz	Elma	Karpuz	Ekmek	Patates	Mısır

4. Bu metne göre “ceviz” ve “mısır”ın, kan şekeri üzerindeki etkisi aşağıdakilerin hangisinde doğru gösterilmiştir?



5. Bu metinden aşağıdaki yargıların hangisi çıkarılamaz?

- A) Patates, vücuttaki yağ oranının artmasına neden olabilir.
- B) Elma, kan şekerinde ani değişikliklere yol açmaz.
- C) Brokoli, yavaş sindirilen bir besin olduğu için uzun süreli tokluk sağlar.
- D) Karpuz, kişinin hastalıklara karşı direncini artırır.

- 6.
- Bal arıları, bitki varlığının devamı için önemli bir katkı sağlar.
  - Bal arılarının toplu ölümü günümüzün önemli problemlerindedir.
  - Bal arılarının yok olması ile ilgili araştırmalar yapılmaktadır.

**Aşağıdaki metinlerin hangisinde bu cümlelerde ifade edilenlerin tümüne değinilmiştir?**

- A) Arılar, taşıdıkları polenlerle 130 binden fazla bitkinin üremesine katkıda bulunuyor. Ancak suni gübre, tarım ilaçlarının yoğun kullanımı ve iklim değişikliği nedeniyle arılar yaşamını hızla yitiriyor. Arıların sayısının azalmasıyla birlikte pek çok bitkinin yok olma tehlikesiyle karşı karşıya kalacağı belirtiliyor.
- B) Arıların yaşamı tehdit altında. Zorlu kış şartları, hastalık yapıcı organizmalar ve küresel ısınma gibi sebepler arıların sayısını her geçen gün azaltıyor. Bir biyoteknoloji şirketi, arıların bağışıklık sistemini kuvvetlendirmek ve ölümlerini azaltmak için farklı ürünler geliştirmeye başladı.
- C) Bal arıları çiçek tozlarını taşıdığı için bitkilerin çoğalmasında önemli bir rol oynuyor. Ne var ki son yıllarda birçok ülkede bal arısı topluluklarında işçi arılar aniden yok oluyor. Araştırmacılar, bu sorunu çözmek amacıyla 5 bin bal arısına minik algılayıcılar takarak bu arıların gittiği yerleri belirleyecek ve arıların sayılarının azalma nedenlerini tespit etmeye çalışacak.
- D) Dünya Doğayı Koruma Vakfı, bal arılarının popülasyonunu korumak amacıyla daha önce yerleşim için kullanılan ancak artık kullanılmayan bölgelerin, bal arıları için sığınaklara dönüştürülebileceğini belirtiyor. Bazı araştırmacılar polen taşıyan böceklerle yaşam alanı sunan, doğal yaşam dostu çiftçilik ve bahçeciliğin de bal arılarına olumlu etkisi olabileceğini söylüyor.

7. Ayşe, Burhan, Cenk, Deniz, Ebru ve Ferhat'tan oluşan yeşil, mavi ve beyaz takım "pas atma" oyunu oynayacaktır. Oyun ile ilgili şunlar bilinmektedir:

- Her takımda ikişer oyuncu vardır.
- Beyaz takım, mavilere; maviler, yeşillere ve yeşiller de beyazlara pas atacaktır.
- Cenk, Ebru'ya; Deniz, Ayşe'ye; Burhan ise Ferhat'a pas atacaktır.
- Ayşe yeşil takımdadır.
- Deniz ve Ferhat aynı takımdadır.

**Bu bilgilerden hareketle aşağıdakilerden hangisi söylenebilir?**

- A) Ayşe ile Cenk aynı takımdadır.  
B) Burhan ile Ebru farklı takımdadır.  
C) Deniz, yeşil takımdadır.  
D) Ferhat beyaz takımdadır.

8. Yer tamlayıcısı (dolaylı tümleç); cümlede yönelme, bulunma, ayrılma bildiren ve yüklemi yer anlamıyla tamamlayan ögedir.

**Buna göre aşağıdaki cümlelerin hangisinde yer tamlayıcısı yoktur?**

- A) Arkeologlar kazı çalışmalarına katılmak için Göbeklitepe'ye gitti.  
B) Yazar, uzun zamandır ailesiyle birlikte bahçeli bir evde yaşıyor.  
C) Müzeyi, her gün 09.30-18.00 saatleri arasında gezebilirsiniz.  
D) Örümcek ağının ipeği, örümceğin içinde sıvı hâlde bulunur.

9. Aşağıdaki tablolarda bir şehre ait dört günlük hava durumu tahmini ve bu tahminlerde kullanılan simgelerin anlamları verilmiştir.

Tablo 1: Dört Günlük Hava Durumu Tahmini

Tablo 2: Hava Tahminlerinde Kullanılan Simgelerin Anlamları

Tarih	Hadise	Sıcaklık (°C)		Nem (%)		Rüzgâr Hızı (km/sa)
		En Düşük	En Yüksek	En Düşük	En Yüksek	
5 Şubat Salı		13	17	64	92	23
6 Şubat Çarşamba		9	12	83	98	19
7 Şubat Perşembe		6	9	71	83	21
8 Şubat Cuma		5	9	48	73	19

	Açık		Az Bulutlu
	Parçalı Bulutlu		Çok Bulutlu
	Hafif Yağmurlu		Yağmurlu
	Kuvvetli Yağmurlu		Sağanak Yağışlı
	Gök Gürültülü Sağanak Yağışlı		Kar Yağışlı

Bu tablolardan hareketle yapılan aşağıdaki açıklamalardan hangisi yanlıştır?

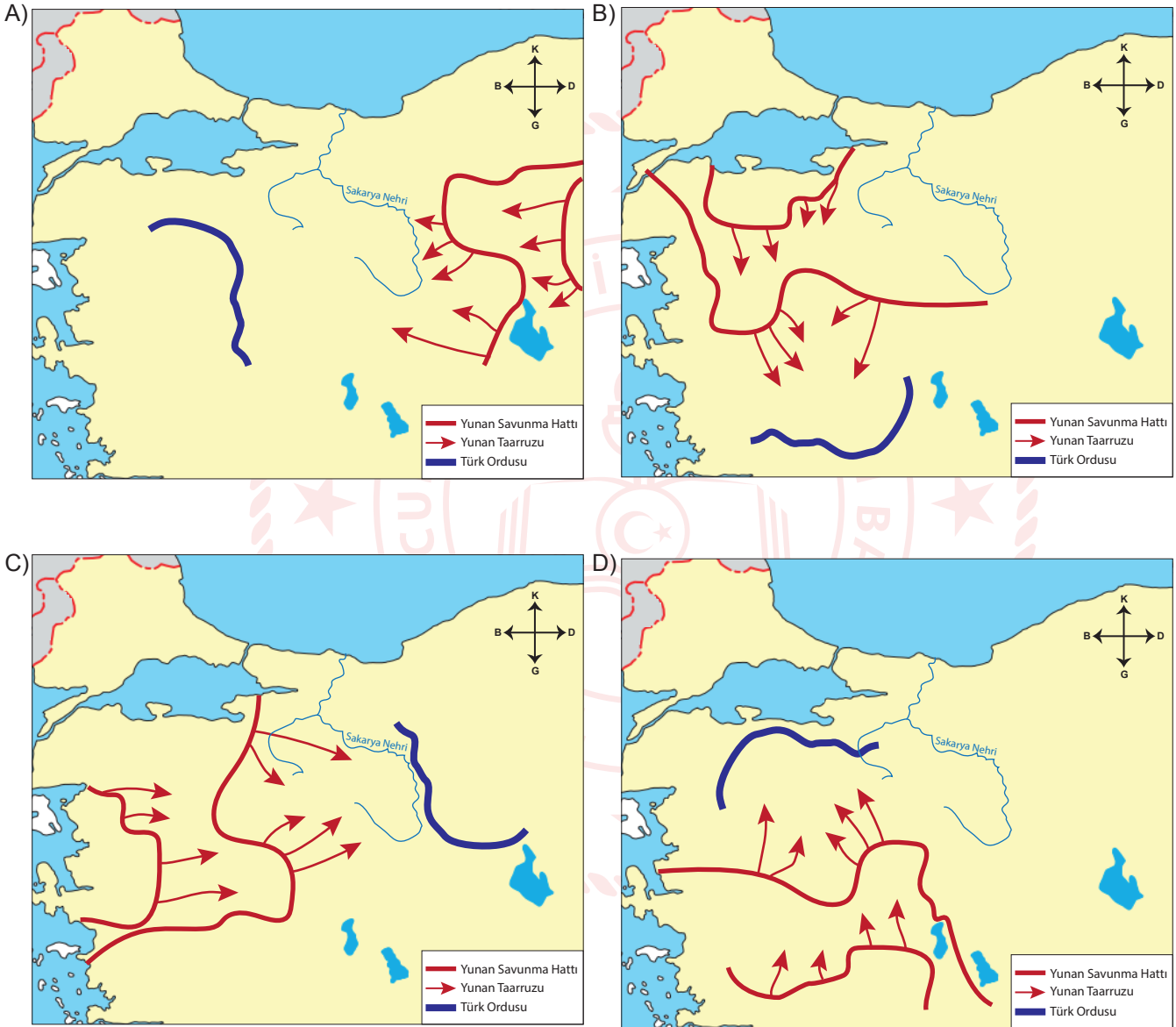
- Salı günü havanın sağanak yağışlı, sıcaklığın 13 ila 17 °C arasında olması, rüzgârın ise saatte 23 km hızla esmesi bekleniyor.
- Çarşamba gününün gök gürültülü sağanak yağışlı geçmesi bekleniyor ve nem oranının önceki güne göre artacağı tahmin ediliyor.
- Perşembe günü havanın yağmurlu, sıcaklığın 6 ila 9 °C arasında olacağı ve nem oranının önceki güne göre azalacağı tahmin ediliyor.
- Cuma günü yağışların azalması, havanın az bulutlu olması, sıcaklık ve rüzgâr hızının önceki güne göre artması bekleniyor.

10. Aşağıdaki parçalardan hangisi "Gün batımından sonra neden uykumuz gelir?" sorusuna cevap vermektedir?

- Yaşımız ilerledikçe vücudumuzda melatonin hormonu daha az salgılanıyor. Bu nedenle uykuda geçirdiğimiz zaman azalıyor. Bebekken neredeyse günün tamamını uyuyarak geçiriyoruz. 6-12 yaşlarındayken günde 9-10 saat uyuyoruz. Ninelerimizin ve dedelerimizin yaşına geldiğimizdeyse uykuda geçirdiğimiz süre azalıyor.
- Bilim insanları uykuyu çeşitli evrelere ayırmıştır. Bu evreleri uykuda sırasıyla deneyimlemeye başlarız. Derin uyku evresinden sonra hafif uyku evresine kısa süreli bir dönüş yapar ve sonra REM uykusuna geçeriz. Her bir döngü ortalama 90 dakika sürer ve bir gecede dört ya da beş kere tekrarlanır.
- REM uykusunun en dikkat çekici yanı, rüyalarımıza ev sahipliği yapması. Aslında uykumuzun herhangi bir aşamasında rüya görebiliyoruz ama REM uykusunda rüya görme olasılığımız daha fazla. Çünkü daha önce belirttiğimiz gibi bu evrede beynimiz çok etkin.
- Melatonin hormonunun salınımı akşam gün ışığının ortadan kalkmasıyla artmaya başlıyor. Gece saat 02.00-04.00 arasında en yüksek seviyeye ulaşıyor. Güneşin doğuşuyla da bu seviye tekrar düşmeye başlıyor. İşte bu yüzden akşamları uyku gereksinimimiz doğuyor ve sabah uyandıığımızda güne başlamaya hazır hissediyoruz.

## T.C. İnkılap Tarihi ve Atatürkçülük Örnek Soruları

1. Sakarya Savaşı'ndan önce Türk ordusu, Kütahya-Eskişehir Savaşları'ndaki kayıp sayısını azaltmak, ihtiyaçlarını gidermek, zaman kazanmak ve savunma için daha elverişli koşullar sağlamak üzere, Sakarya Nehri'nin doğusuna çekilmiştir. Buna göre aşağıdaki haritalardan hangisi Sakarya Savaşı'ndan önce Türk ve Yunan ordusunun durumunu göstermektedir?



2. Serbest Cumhuriyet Fırkası programında yer alan hükümlerden bazıları şunlardır:

- Fırka, Türk parasının kıymetini bir an önce tespit edecek ve dış sermayenin memlekete girmesini sağlayacaktır.
- Köylü ve çiftçiye kolay yollardan kredi verilecektir.
- Yerli mahsuller korunacak ve bunlara dış pazar bulunacaktır.

**Bu hükümlerden,**

- I. Uluslararası ticaretin Türk lirası ile yapılmasının amaçlandığı
- II. Tarımı geliştirmeye yönelik tedbirlerin alındığı
- III. Dış ticaretin geliştirilmesinin hedeflendiği

**çıkarımlarından hangileri yapılabilir?**

- A) Yalnız I .                      B) Yalnız II.                      C) I ve III.                      D) II ve III.

3. "...Bizim toplumumuz için ilim ve fen lüzumlu ise bunları aynı derecede hem erkek ve hem de kadınlarımızın elde etmeleri gerekir... Bundan dolayı kadınlarımız ilim ve fen sahibi olacaklar ve erkeklerin geçtikleri bütün öğretim basamaklarından geçeceklerdir... Kadınlar toplum yaşamında erkeklerle birlikte yürüyerek birbirinin yardımcısı ve destekçisi olacaklardır."

**Atatürk'ün 31 Ocak 1923 tarihli İzmir konuşmasıyla,**

- I. Kadınların eğitimine gereken önemin verilmesi
- II. Kadın-erkek eşitliğine yönelik adımların atılması
- III. Kadınların sosyal hayata aktif katılımının sağlanması

**durumlarından hangilerini amaçladığı söylenebilir?**

- A) I ve II.                      B) I ve III.                      C) II ve III.                      D) I, II ve III.



4. Atatürk, İzmir İktisat Kongresi'nin açılış konuşmasında; "...Baylar, tarihimizi dolduran bunca başarının, zaferlerin veya yenilgilerin, sıkıntı veren büyük zararın ve yıkımların tamamı oluştukları devirdeki ekonomimiz ile doğrudan ilgilidir. Yeni Türkiye'mizi hak ettiği yüksek düzeye ulaştırmak için zaman kaybetmeden ekonomimize öncelikle önem vermek zorundayız. Çünkü günümüz bütünüyle ekonomi çağıdır." ifadelerini kullanmıştır.

**Aşağıdakilerden hangisi Atatürk'ün bu sözü doğrultusunda alınan kararlardan biri olamaz?**

- A) Yabancı yatırımların engellenmesi
- B) Aşar vergisinin kaldırılması
- C) Özel girişimcilere kredi imkanı verilmesi
- D) Vergi sisteminin çağın gereklerine uygun düzenlenmesi

5. Birinci Beş Yıllık Sanayi Planı, büyük sermaye ve ileri teknoloji gerektiren projelere, ham maddeleri yurt içinde üretilen ve üretilebilecek tesislere ve bu tesislerin kuruluş kapasitelerinin iç tüketimi karşılayabilecek düzeyde tutulmasına öncelik vermiştir. Bu dönemde 20 fabrikanın kurulması öngörülmüş ve dokuma, cam, kimya ve kâğıt sanayinde çok sayıda fabrika açılmıştır. Bu fabrikaların işletme ve yönetimleri Sümerbank'a verilmiş, madencilik ve enerji işlerini yönetmekle Etibank ve Maden Tetkik Arama Enstitüsü görevlendirilmiştir.

**Buna göre aşağıdakilerden hangisinin Birinci Beş Yıllık Sanayi Planı'nın uygulanma nedenlerinden biri olduğu söylenebilir?**

- A) Ham madde ihtiyacını ithal ürünlerle karşılamak
- B) Ekonomide üretim açısından dışa bağımlılığı azaltmak
- C) Yatırımların özel sektör aracılığıyla gerçekleştirilmesini sağlamak
- D) Yer altı kaynaklarının yabancı sermaye eliyle çıkarılmasını teşvik etmek

## Din Kültürü ve Ahlak Bilgisi Örnek Soruları

1. Hz. Peygamber, Hz. Ali'yi Yemen'e yönetici olarak gönderdiğinde ona şöyle demiştir:

"Sana iki hasım (düşman) geldiğinde her iki tarafı dinlemeden karar verme! Doğru kararı ancak her iki tarafı dinledikten sonra verebilirsin!"

**Hz. Peygamber bu tavsiyesinde aşağıdaki kavramlardan hangisinin önemini vurgulamıştır?**

- A) Adalet
- B) Hoşgörü
- C) Merhamet
- D) Yardımseverlik

2. "And olsun zamana ki insan gerçekten zıyan içindedir. Ancak, iman edip de salih ameller işleyenler, birbirlerine hakkı ve sabrı tavsiye edenler başka. (Onlar ziyanda değildir.)"

(Asr suresi, 1-3. ayetler)

**Aşağıdaki atasözlerinden hangisi bu surede vurgulanan ana düşünceyle ters düşer?**

- A) İyilik eden iyilik bulur.
- B) Tatlı dil yılanı deliğinden çıkarır.
- C) Üzüm üzümüne baka baka kararır.
- D) Bana dokunmayan yılan bin yaşasın.

3. **Aşağıda verilen ayetlerden hangisi zekâtın kimlere, nasıl veya nelerden verilmesi gerektiği ile ilgili bilgi İÇERMEZ?**

A) "Sadakalar (zekâtlar)... ancak fakirler, düşkünler, zekât toplayan memurlar, kalpleri İslâm'a ısındırılacak olanlarla (özgürlüğüne kavuşturulacak) köleler, borçlular, Allah yolunda cihat edenler ve yolda kalmış yolcular içindir..."

(Tevbe suresi, 60. ayet)

B) "Mallarını Allah yolunda harcayan, sonra da harcadıklarının peşinden (bunları) başa kakmayan ve gönül incitmeyenlerin, Rabb'leri katında mükâfatları vardır. Onlar için korku yoktur. Onlar üzülmeyeceklerdir de."

(Bakara suresi, 262. ayet)

C) "Mallarını Allah yolunda harcayanların durumu, yedi başak bitiren ve her başakta yüz tane bulunan bir tohum gibidir. Allah dilediğine kat kat verir. Allah lütfu geniş olandır, hakkıyla bilendir."

(Bakara suresi, 261. ayet)

D) "Ey iman edenler! Kazandıklarınızın iyilerinden ve rızık olarak yerden size çıkardıklarımızdan hayra harcayın. Size verilse, gözünüzü yummadan alamayacağınız kötü malı, hayır diye vermeye kalkışmayın..."

(Bakara suresi, 267. ayet)

4. Aşağıdaki kurum ve kuruluşlar bazı temel hakların korunması amacıyla kurulmuştur.

- I. Çocuk Destek Merkezleri
- II. Tüketici Mahkemeleri
- III. Hastaneler

**Numaralanmış kurum ve kuruluşların korumayı amaçladığı temel haklar aşağıdakilerin hangisinde doğru eşleştirilmiştir?**

	I	II	III
A)	Neslin Korunması	Canın Korunması	Malın Korunması
B)	Neslin Korunması	Malın Korunması	Canın Korunması
C)	Canın Korunması	Neslin Korunması	Malın Korunması
D)	Malın Korunması	Canın Korunması	Neslin Korunması

5. "Tevekkül," terim olarak insanın bir konuda üzerine düşen her şeyi yapıp sonucu Allah'a bırakmasıdır. Tevekkül eden kişi ortaya çıkacak durum beklentilerini karşılamadığında bile yeni kapıların açılacağı konusunda umudunu yitirmez ve Allah ile bağını güçlü tutar.

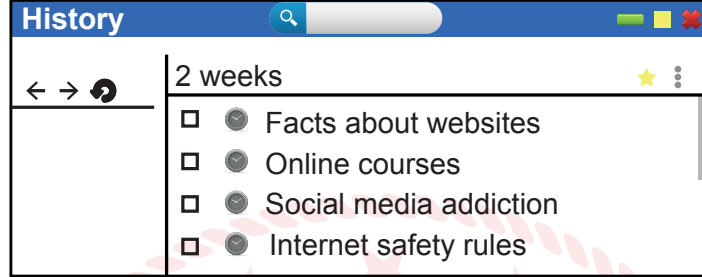
**Bu metne göre aşağıdaki ayetlerin hangisinde "tevekkül"den söz edilmektedir?**

- A) "Başınıza her ne musibet gelirse, kendi yaptıklarınız yüzündendir. O, yine de çoğunu affeder.." (Şûra suresi, 30. ayet)
- B) "Göklerde, yerde ne varsa hepsini Allah'ın sizin hizmetinize verdiğini ve açıkça yahut gizlice üzerinizdeki nimetlerini tamamladığını görmediniz mi?..." (Lokmân suresi 20. ayet)
- C) "Artık kim zerre ağırlığınca bir hayır işlerse onun mükâfatını görecektir. Kim de zerre ağırlığınca bir kötülük işlerse onun cezasını görecektir." (Zilzâl suresi, 7 ve 8. ayetler)
- D) "...Kararını verdiği zaman da artık Allah'a dayanıp güven. Çünkü Allah, kendisine dayanıp güvenenleri sever." (Âl-i İmrân suresi, 159. ayet)

## İngilizce Örnek Soruları

Read the text and answer the question.

1. Here is Mike's search history in the last two weeks:

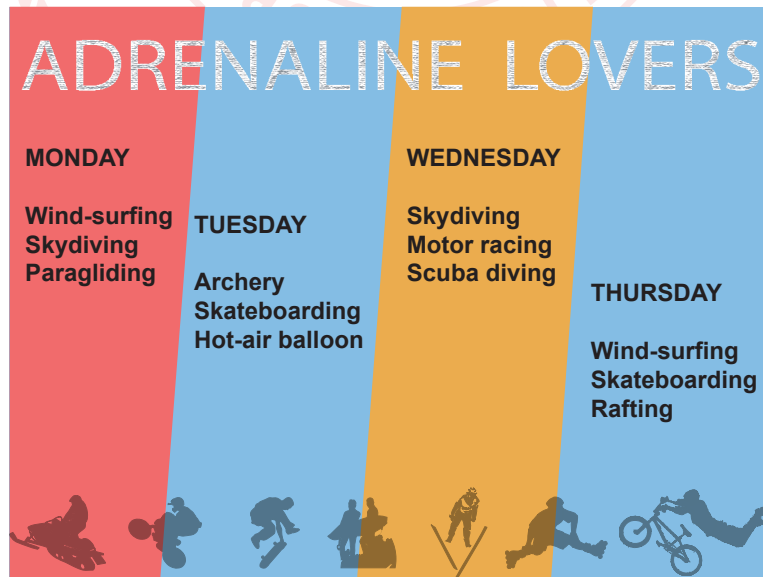


Which of the following is NOT related to Mike's search history?

- A) The exact number of active Internet sites is unknown.
- B) New generation smart phone war takes new shape.
- C) 92% of teens go online daily and 24% say they are always online.
- D) Many people practice a foreign language by using the Internet.

Read the text, look at the poster and answer the question.

2. Emily, Sandra and Sally want to try extreme sports together. However, they like doing different kinds of activities. Emily enjoys being in the air. Sandra is interested in underwater sports. Sally is keen on speed.



According to the information above, which of the following is a suitable day for all of them?

- A) Monday
- B) Tuesday
- C) Wednesday
- D) Thursday

Look at the brochure and answer the question.

3.

**RAFTING ON ÇORUH RIVER**

**Would you like to try rafting on Çoruh River?**

Çoruh River is in the northeast of Turkey. It is one of the top ten white-water rivers in the world. Because of the water level, the best months for rafting here are May and June. Many travel companies organize rafting holidays on Çoruh River. They provide wet suits, helmets, life jackets and the other necessary things for rafting. While on a rafting holiday, you can camp by the river or you can stay in hotels or village houses.



Which of the following is **CORRECT** according to the text?

- A) People have to bring their own rafting equipment.
- B) If you want to try rafting on Çoruh, go there in the winter.
- C) Çoruh is the most popular white-water river in the world.
- D) There are various accommodation options for rafting lovers.

Read the text and answer the questions 4-5.

Terry asked some of his friends about their holiday plans and wrote down their answers. Here are his notes:

<u>Names</u>	<u>Preferences</u>	<u>Dates of their holidays</u>
<b>Lily</b>	She likes water sports, so she is going to swim and go scuba diving.	13 - 20 June
<b>Mary</b>	She likes extreme sports. Therefore, she is going to do mountain biking and skydiving.	18 - 22 May
<b>Tom</b>	He is going to a summer camp because many people from different nationalities are going to be there. He is going to learn more about their cultures.	21 - 23 August
<b>Dave</b>	He is interested in history. Therefore, he is going to visit Göbeklitepe, Şanlıurfa which is nearly 12000 years old.	22 - 24 April

4. Which of the following is NOT correct according to the information above?

- A) Lily is planning a seaside holiday for the summer.
- B) Mary and Dave prefer different kinds of holidays.
- C) Lily's and Tom's holidays have the same duration.
- D) Dave is going to visit an ancient site.

5. Which of the following does NOT have an answer in the text above?

- A) Which equipment do they need on their holidays?
- B) Who prefers going on an adventure holiday?
- C) When are they going to have their holidays?
- D) Why are they going on such holidays?

## CEVAP ANAHTARI

### TÜRKÇE

1. D
2. B
3. B
4. C
5. D
6. C
7. A
8. C
9. D
10. D

### T.C. İNKILAP TARİHİ VE ATATÜRKÇÜLÜK

1. C
2. D
3. D
4. A
5. B

### DİN KÜLTÜRÜ VE AHLAK BİLGİSİ

1. A
2. D
3. C
4. B
5. D

### İNGİLİZCE

1. B
2. C
3. D
4. C
5. A