

**TAM
İSABET!**

Merkezi Sınavlarda Benzer Soru
GELENEĞİ DEVAM EDİYOR...

**LGS SINAVI
BENZER SORULAR**
2 Haziran 2018





LGS SINAV SORUSU
TÜRKÇE

19. yüzyılın ortasından itibaren büyük şehirlerde ulaşım sorun hale gelmeye başlayınca ülkeler toplu taşımacılığa yönelmiştir. Bunun için bulunan çözümlerden biri de raylı taşımacılık yani metrodur. Dünyanın büyük şehirlerinde faaliyete geçen metro hatlarıyla ilgili bazı bilgiler şunlardır:

- İstanbul Tünel Metrosu, Budapeşte Metrosu'ndan önce hizmete girmiştir.
- Chicago (Şikago) Metrosu'ndan önce ve sonra açılan metro hatları vardır.
- İstanbul Tünel Metrosu açıldığında sadece bir metro hattı faaliyettedir.
- Budapeşte Metrosu, Londra Metrosu'ndan sonra açılmıştır.

Bu bilgilere göre metro hatlarının hizmete girme tarihleri aşağıdakilerin hangisinde doğru verilmiştir?

	1863	1875	1892	1896
A)	Budapeşte	İstanbul Tünel	Londra	Chicago (Şikago)
B)	İstanbul Tünel	Budapeşte	Chicago (Şikago)	Londra
C)	Londra	İstanbul Tünel	Chicago (Şikago)	Budapeşte
D)	Chicago (Şikago)	Londra	İstanbul Tünel	Budapeşte



OKYANUS KOLEJİ SINAV SORUSU
TÜRKÇE

Matine (Gündüz gösterimi) : 14.00

Suare (Gece gösterimi) : 20.00

- Esra Hanım hafta içi saat 08.00–18.00 arası çalışmaktadır.
- Programda belirtilen günlerin birinde tiyatroya gitmek istemektedir.
- Yalnızca iş çıkışında tiyatroya gider.
- Sadece dram türündeki oyunları izler.

	Melek Ökte Sahnesi	Karşıyaka Oda Tiyatrosu	Fuar Tiyatrosu
Salı (Matine)	Öfkeyle Bak Geçmişe (Dram)	"Gömü" Bir Küp Altın (Komedi)	Hamlet (Dram)
Çarşamba Suare)	Ödenmeyecek, Ödemiyoruz (Komedi)	Kahvede Şenlik Var (Komedi)	Jan D'arc'ın Öteki Ölümü (Dram)
Cuma (Matine)	Kahvede Şenlik Var (Komedi)	Sandalım Kıyıda Bağlı (Komedi)	Ödenmeyecek, Ödemiyoruz (Komedi)
Cuma (Matine)	Vişne Bahçesi (Dram)	Jan D'arc'ın Öteki Ölümü (Dram)	Sandalım Kıyıda Bağlı (Komedi)
Pazar (Suare)	Hamlet (Dram)	Öfkeyle Bak Geçmişe (Dram)	Vişne Bahçesi (Dram)

Tiyatro programı ve Esra Hanım ile ilgili bilgilere göre Esra Hanım hangi oyuna bilet almalıdır?

- A) Hamlet
- B) Öfkeyle Bak Geçmişe
- C) Vişne Bahçesi
- D) Jan D'arc'ın Öteki Ölümü



LGS SINAV SORUSU TÜRKÇE

Yaşadığımız dünyaya karşı taşıdığımız sorumlulukları fark etmemiz için en ideal zamanlar ilk çocukluk yıllarımız. Vere çöp atmama, ağaçların dallarını kırmama, çiçekleri koparmama gibi birçok şey bu dönemde edindirilir Bunda en büyük pay kitaplara ait.

Eğitim Uzmanı Bilge Buhan Musa. geri dönüşüm üzerine çıkardığı dört yeni hikâye kitabıyla çocuklara çevre bilinci kazandırmayı hedefliyor. Bilge Buhan Musa, doğanın nasıl korunabileceğini kitaplarında verdiği yöntemlerle so-mutlaştırıp çocukların bunu davranışa kolayca dönüştürebileceklerini belirtiyor. Eğitimci yazarın yayımlanan hikâye serisi, çocukların kitaptaki kahramanlarla empati kurmalarını sağlıyor ve gezegenimize karşı sorumluluklarını yerine getirmelerine aracı oluyor. Bu hikâye serisi dört fartch kitaptan oluşuyor. “Yaşlı Çınar Ağacı’nda kâğıdın, ‘Meraklı Yeşil Şişe’de camın, ‘Beyaz Plastik Bardak’ta plastiğin geri dönüşümü anlatılıyor. “Geri Kazanım Atölyesi’nde ise kullandığımız eşyalardan geri dönüşüme gitmeden ne şekilde faydalanabileceğimiz dile getiriliyor.

Bu metinden aşağıdaki yargıların hangisi çıkarılamaz?

- A) Doğayı korumada geri dönüşüm önemlidir.
- B) Kitapların, çocukların kişilik gelişiminde etkisi vardır.
- C) Olumlu davranışlar çocukken daha kolay kazandırılır.
- D) İnsanlarla sağlıklı iletişimin yolu empati kurmaktır.



OKYANUS KOLEJİ SINAV SORUSU TÜRKÇE

Dünyada var olan, su, hava, toprak, bitki, hayvanlar, petrol ve doğal gaz gibi maddeler, sınırlı yaşamsal kaynaklardır. Bilinçsiz ve aşırı tüketim nedeniyle bu kaynaklar her geçen gün biraz daha azalmaktadır. Güneş ve rüzgâr gibi nispeten daha uzun süreli enerji kaynakları ise insanlar tarafından henüz yeteri kadar kullanılmamaktadır. Bu enerjilerden yararlanmak için kurulan sistemlerin ekonomik açıdan pahalı olması nedeniyle insanlar henüz bu kaynaklara yeteri kadar yönelmemiştir. Daha az emek ve sermaye gerektirdiğinden hazır kaynakları kullanmak daha cazip gelmektedir. Bitmeyecekmiş gibi görünen bu kaynaklar, insanların bilinçsiz davranışları nedeniyle hızla azalmaktadır. Oysa görevimiz bunları yok etmek değil, korumaktır. Doğal kaynakların yok olması yaşamın sona ermesi anlamına gelir. Bu nedenle elimizdeki kaynakları dikkatli kullanılmalı, israf etmekten kaçınılmalı, ışığı gerektiği zaman yakmalı, ocağımızdaki gazı zamanında kapamalıyız. Musluğumuzda bir arıza varsa bu arızayı gidermeli, damla damla akıyor olsa bile suyun boşa akmasını önlemeliyiz. Dişimizi fırçalar-ken musluğumuzu kapatmalı, kâğıtları tasarruflu kullanılmalı ve kâğıt gibi geri dönüşümü olabilecek maddeleri çöpe atmak yerine özel konteynirlara atmalıyız.

Bu parçada aşağıdakilerden hangisine değinilmemiştir?

- A) Çevre kirliliğinin önlenemez boyuta geldiğine
- B) Rüzgâr ve güneş enerjisinin yeterince kullanılmadığına
- C) Yaşamsal kaynaklarımızın neler olduğuna
- D) Hazır enerji kaynaklarının gittikçe azaldığına



LGS SINAV SORUSU T.C. İNKILAP TARİHİ VE ATATÜRKÇÜLÜK

İzmir İktisat Kongresi'nin kapanışında konuşan Kazım Karabekir Paşa, ülkenin içinde bulunduğu ekonomik durumu şu çarpıcı sözlerle özetlemiştir:

"... Doğduğu günden itibaren çocuklarımızın boğazına yabancı sütü dökersek, yabancı bez ve pamuklarına sarıp yine yabancı beşiğine yatırırsak, ayağındaki patiğinden, başındaki mavi nazar boncuğuna ve elindeki teneke parçasına kadar yabancı malından yaparsak, Avrupa'da çakılmış dört tahtadan ibaret olan sandalyeler en ücra yerlere kadar girerse ve üstüne bir de kulaklarına, benim oğlum paşa olacak, gibi ninniler söyleyerek uyutucu telkinler yaparsak, büyüdükten sonra doğaldır ki üzerinde ve çevresinde, artarak yabancı mallar bulunacak ve paralarımız akıp gidecektir..."

Buna göre Kâzım Karabekir Paşa'nın savunduğu düşünce aşağıdakilerden hangisi olamaz?

- A) Yerli malı kullanılmalı ve teşvik edilmeli.
- B) Bağımsız ve millî bir ekonomi kurulmalı.
- C) Türk malları sadece Türkiye'de kullanılmalı
- D) Yerli üretim artırılmalı.



OKYANUS KOLEJİ SINAV SORUSU T.C. İNKILAP TARİHİ VE ATATÜRKÇÜLÜK

İzmir İktisat Kongresi'nin kapanışında konuşan Kazım Karabekir Paşa, ülkenin içinde bulunduğu ekonomik durumu şu çarpıcı sözlerle özetliyordu.

"Ekonomideki cehaletimiz, siyasetteki başıboşluğumuzla el birliği etmiş ve milletimizi kemirmiştir. Çocuklarımızın doğduğu günden itibaren boğazına yabancı sütü dökersek, yabancı bez ve pamuklarına sarıp yine yabancı beşiğine yatırırsak, ayağındaki patiğinden, başındaki mavi nazar boncuğuna ve elindeki teneke parçasına kadar yabancı malından yaparsak, Avrupa'da çakılmış dört tahtadan ibaret olan sandalyeler en ücra yerlere kadar girerse ve üstüne bir de kulaklarına benim oğlum paşa olacak gibi ninni söyleyerek uyutturucu telkin yaparsak, büyüdükten sonra doğaldır ki üzerinde ve çevresinde artarak yabancı mallar bulunacak ve paralarımız akıp gidecektir."

(Afet inan,1989:87-88)

Yukarıdaki paragrafa göre Kazım Karabekir Paşa neyin öneminden bahsetmiştir?

- A) Yabancı sermayenin öneminden
- B) Beş yıllık ekonomik kalkınma planından
- C) Özel sektörün teşvik edilmesinden
- D) Yabancı malların alınması yerine yerli üretim yapılmasının gerekliliğinden



LGS SINAV SORUSU
T.C. İNKILAP TARİHİ VE
ATATÜRKÇÜLÜK

“Türk milletinin karakteri yüksektir. Türk milleti çalışkandır, Türk milleti zekidir. Çünkü Türk milleti milli birlik ve beraberlik içerisinde güçlükleri yenmesini bilmiştir.”

Mustafa Kemal'in bu sözü aşağıdaki millî güç unsurlarından hangisi ile ilişkilendirilebilir?

- A) Askerî güç
- B) Siyasi güç
- C) Ekonomik güç
- D) Sosyokültürel güç



OKYANUS KOLEJİ SINAV
SORUSU T.C. İNKILAP TARİHİ VE
ATATÜRKÇÜLÜK

“Türkiye Cumhuriyeti'nin temeli kültürdür... Kültür okumak, anlamak, görebilmek, görebildiğinden anlam çıkarmak, uyanık davranma, düşünmek, zekayı eğitmektir. Milletimizin dehasının gelişmesi ve bu sayede layık olduğu uygarlık düzeyine ulaşması şüphesiz ki meslek sahiplerini yetiştirmekle ve milli kültürümüzü yükseltmekle mümkündür.”

(Afet İnan, Atatürk hakkında hatıralar ve belgeler, s. 261 – 262.)

Yukarıdaki Mustafa Kemal'in sözü ile öne çıkarılan milli güç unsuru hangi seçenekte verilmiştir?

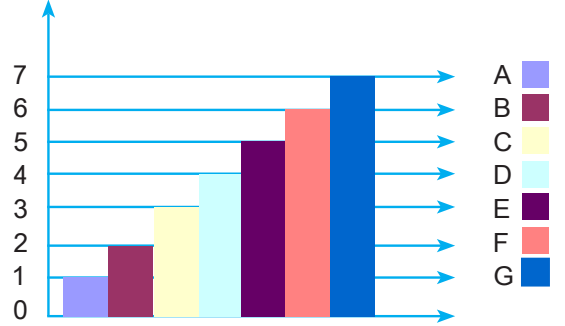
- A) Askerî güç
- B) Ekonomik güç
- C) Siyasi güç
- D) Sosyo kültürel güç

**LGS SINAV SORUSU**
DİN KÜLTÜRÜ VE AHLAK BİLGİSİ

“Allah yolunda mallarını harcayanların örneği, yedi başak bitiren bir dane gibidir ki, her başakta yüz dane vardır. Allah dilediğine kat kat fazlasını verir...”
(Bakara Suresi, 261. Ayet)

Bu ayette vurgulanan düşünce aşağıdakilerden hangisidir?

- A) Yapılan iyilikler fazlasıyla karşılık bulacaktır.
- B) İnsan maddi ve manevi yönden başkalarına ihtiyaç duyar.
- C) Yardımlar, insanlar incitilmeden yapılmalıdır.
- D) Yardımlaşma insan ilişkilerinin gelişmesine katkı sağlar.

**OKYANUS KOLEJİ SINAV**
SORUSU DİN KÜLTÜRÜ VE AHLAK BİLGİSİ

“Allah yolunda mallarını harcayanların örneği, yedi başak bitiren bir dane gibidir ki, her başakta yüz dane vardır. Allah dilediğine kat kat fazlasını verir. Allah’ın lütfü genişdir, O her şeyi bilir.”

(Bakara Suresi, 261. Ayet)

Ayetin açıklaması ışığında yukarıdaki grafikte gösterilen sütunlardan hangisi kulun, hangisi Allah’ın verdiği temsil eder?

	Kul	Allah
A)	A	B
B)	C	D
C)	B	G
D)	A	G



LGS SINAV SORUSU DİN KÜLTÜRÜ VE AHLAK BİLGİSİ

Enes b. Malik, Hz. Muhammed(S.A.V.)'i şu şekilde anlatmıştır: "Resulullah bütün ashabi ile yakından ilgilenirdi. O'nun yanında herkes kendini kıymetli hissedirdi. Hediyeleşmeyi severdi. Hasta olanları ziyaret ederdi. Çocuklar ile oynardı. Kimsenin sözünü kesmez, konuşanın sözü bitmeden başını o kişiden çevirmezdi."

Bu metinde Hz. Muhammed(S.A.V.)'in aşağıdaki özelliklerinden hangisine vurgu yapılmıştır?

- A) Bilgiye önem vermesine
- B) İnsanlara değer vermesine
- C) Güvenilir bir insan olmasına
- D) Sabırlı ve cesaretli olmasına



OKYANUS KOLEJİ SINAV SORUSU DİN KÜLTÜRÜ VE AHLAK BİLGİSİ

Hz. Muhammed(S.A.V.) insanların makamına, zenginliğine, ırkına, cinsiyetine göre değil, onlara insan olarak değer verirdi. İnsanlar arasında ayırım yapmazdı. O, birisine annesi siyahi olduğu için "kara kadının oğlu" diyen Ebuzer el Gıfari'ye tepki göstermiştir. Hz. Muhammed(S.A.V.), sadece müslümanlara değil başka dinden olan insanlara da önem verir hatta onların ölümlerine bile saygı gösterirdi. Bir gün, arkadaşlarıyla otururken yanlarından geçen bir cenazeyi görerek ayağa kalktı. Arkadaşları ona, cenazenin müslüman olmayan birine ait olduğunu anımsattılar. Bunun üzerine Hz. Muhammed(S.A.V.) "O da bir insan değil mi?" buyurdu.

Yukarıda verilen açıklamalar doğrultusunda Hz. Muhammed(S.A.V.)'in hangi özelliğine öncelikli olarak vurgu yapılmıştır?

- A) İnsanlara karşı merhametli olması
- B) İnsanlara karşı adaletli olması
- C) İnsanlara değer vermesi
- D) İnsanlara karşı hoşgörülü olması




LGS SINAV SORUSU
İNGİLİZCE

Carla loves wearing trendy clothes, so she spends a lot of money on them.

Which place would she prefer to visit?



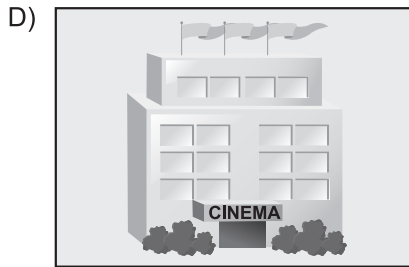
Amusement Park



Space Museum



Shopping Centre



Cinema




OKYANUS KOLEJİ SINAV
SORUSU İNGİLİZCE



I'll live in a rural area when I get older.

What kind of place does he prefer?





LGS SINAV SORUSU İNGİLİZCE

Sam always prefers doing activities with his friends outside.

Which picture shows the activity that Sam prefers doing?



OKYANUS KOLEJİ SINAV SORUSU İNGİLİZCE

Cenk is really into extreme sports. The sport that he enjoys doing is a bit hard but enjoyable for him. Because, he feels free when he jumps from a high place with a rope around his feet.

Which option can be Cenk's photo?

A)



B)



C)



D)

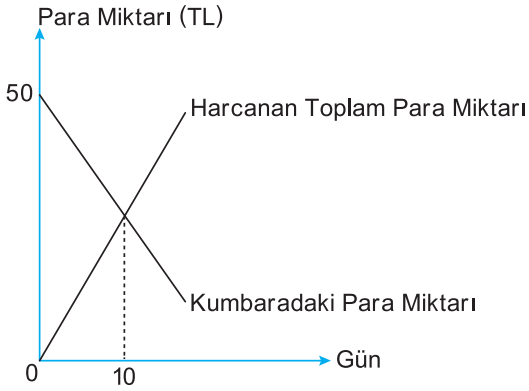




LGS SINAV SORUSU MATEMATİK

Ahmet her gün kumbarasından aynı miktarda para alarak harcıyor. Ahmet'in kumbarasındaki para miktarı ve harcadığı toplam para miktarını gösteren doğrusal grafik aşağıda verilmiştir.

Grafik: Kumbarada Bulunan ve Harcanan Toplam Para Miktarı

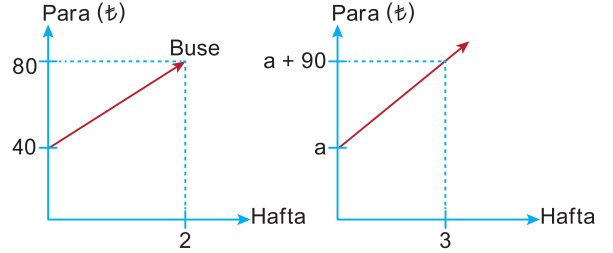


Grafiğe göre Ahmet'in kumbarasındaki para kaçınıcı günde biter?

- A) 20 B) 25 C) 30 D) 35



OKYANUS KOLEJİ SINAV SORUSU MATEMATİK



Gülru Hanım küçük kızı Buse'ye tasarruf alışkanlığı kazandırmak için bir kumbara alarak kumbarasına ₺40 para koyuyor ve Buse'den her hafta harçlığından belirli bir miktar parayı kumbarasına atmasını istiyor. 3 hafta sonra Buse'nin ablası Nisan da kumbara istediğini söylüyor. Gülru Hanım Nisan'a da bir kumbara alıyor ve onun kumbarasına da bir mitar para koyuyor.


Yukarıdaki grafiklerde Buse ve Nisan'ın haftalara göre kumbaralarında biriken para miktarları gösterilmiştir.

Nisan kumbarasına para atmaya başladıktan 5 hafta sonra Buse ve Nisan'ın kumbaralarında biriken para miktarları eşit olduğuna göre Gülru Hanım başlangıçta Nisan'ın kumbarasına kaç ₺ para koymuştur?

- A) 30 B) 40 C) 50 D) 60

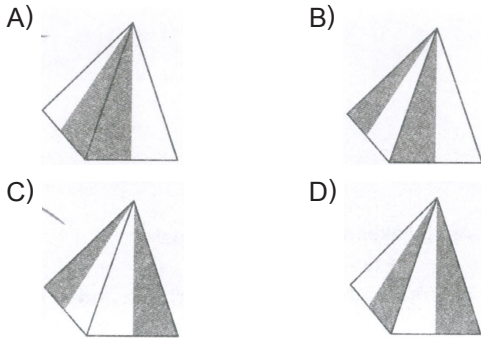


LGS SINAV SORUSU
MATEMATİK




Beyaz kartondan yapılmış bir kare dik piramidin dış yüzünün bir kısmı griye boyanıyor. Bu kare dik piramidin açılımı yapıldığında dış yüzü yukarıdaki gibi görünüyor.

Buna göre aşağıdakilerden hangisi bu piramidin görünülerinden biri olamaz?

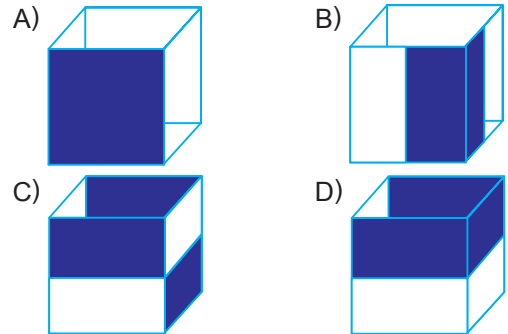


OKYANUS KOLEJİ SINAV
SORUSU MATEMATİK



Bazı yüzeyleri boyanmış küpün açılımı yukarıda gösterilmiştir. (Küpün her iki yüzü de aynı şekilde boyalıdır.)

Buna göre aşağıdakilerden hangisi bu küpün bir görünümüdür?



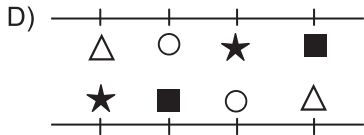
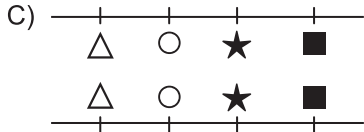
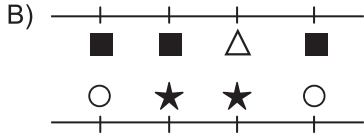
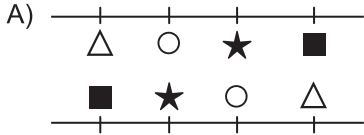


LGS SINAV SORUSU
FEN BİLİMLERİ

Bir öğretmen, öğrencilerinden Δ , \blacksquare , \circ ve \star şekillerini kullanarak DNA modeli oluşturmalarını istiyor.

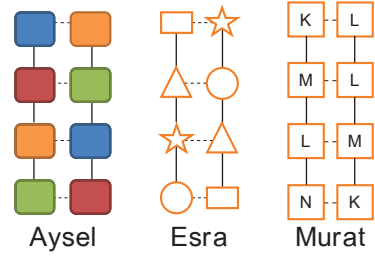
Buna göre öğrencilerin oluşturduğu aşağıdaki DNA modellerinden hangisi doğrudur?

(Zincirler üzerindeki şekiller nükleotitleri göstermektedir.)



OKYANUS KOLEJİ SINAV
SORUSU FEN BİLİMLERİ

Fen Bilimleri dersinde öğretmen öğrencilerinden DNA modeli hazırlamalarını istemiştir. Öğrencilerin hazırladığı DNA modelleri aşağıdaki gibidir.



Buna göre öğrencilerin hazırladıkları DNA modellerindeki sembollerle gösterilen baz eşleştirmeleri dikkate alındığında hangi öğrencilerin hazırladığı DNA modelleri yanlıştır?

- A) Esra ve Murat
- B) Aysel ve Esra
- C) Aysel ve Murat
- D) Aysel, Esra ve Murat



LGS SINAV SORUSU FEN BİLİMLERİ

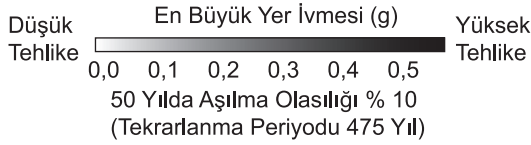
Ülkemizdeki üç ayrı ilde gerçekleşen depremlerle ilgili bilgiler harita üzerinde verilmiştir.

Kocaeli

1999 yılında 7,4 büyüklüğünde bir deprem gerçekleşti. Çok sayıda can ve mal kaybı oldu.

Erzincan

1939 yılında 7,2 büyüklüğünde bir deprem gerçekleşti. Çok sayıda can ve mal kaybı oldu.



Van (Erciş)

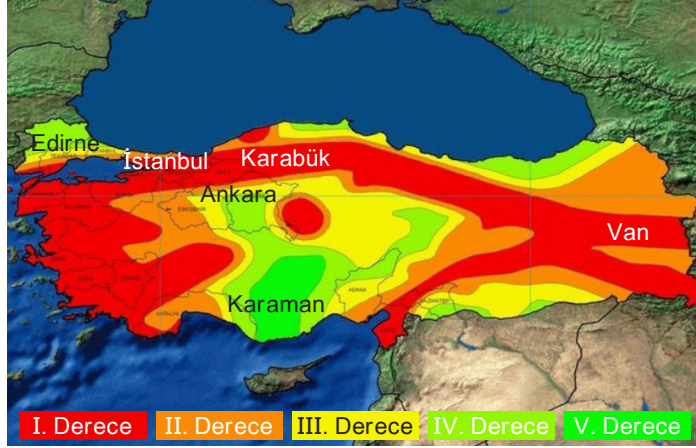
2011 yılında 7,2 büyüklüğünde bir deprem gerçekleşti. Çok sayıda can ve mal kaybı oldu.

Bu bilgilere göre aşağıdakilerden hangisi söylenebilir?

- A) Fay hattı üzerinde yer alan şehirlerde deprem olma riski yüksektir.
- B) Aynı fay hattı üzerinde depremlerin oluş sırası batıdan doğuya doğrudur.
- C) Kocaeli depremi; Erzincan depreminin artçı, Van depreminin öncü depremidir.
- D) Batı Anadolu ve Doğu Anadolu fay hatları aktif olmadığından bu bölgelerde deprem olma riski yoktur.



OKYANUS KOLEJİ SINAV
SORUSU FEN BİLİMLERİ



Yukarıdaki haritada ülkemizdeki deprem bölgelerinin derecelerine göre farklı renklerde gösterimi yapılmıştır.

Buna göre aşağıdaki ifadelerden hangisi ya da hangileri söylenemez?

- I. Ankara'daki deprem riski, Karabük'teki deprem riskinden fazladır.
- II. İstanbul'daki deprem riski, Edirne'deki deprem riskinden fazladır.
- III. Van'daki deprem riski, Karaman'daki deprem riskinden fazladır.

- A) Yalnız I B) Yalnız II C) Yalnız III D) II ve III